

ВСЕРОССИЙСКАЯ ОЛИМПИАДА ШКОЛЬНИКОВ

ПО ОБЖ. 2022–2023 уч. г.  
ШКОЛЬНЫЙ ЭТАП. 10–11 КЛАССЫ

1008

Тестовые задания

Определите один правильный ответ.

За правильный ответ начисляется 2 балла.

1. О чём предупреждает изображённый дорожный знак?

2

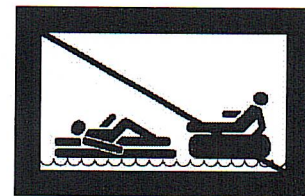
а) о скользкой дороге  
 б) о неровной дороге  
 в) об извилистой дороге  
 г) об искусственной неровности



2. Определите смысловое значение данного знака на водных объектах г. Москвы.

2

а) «Кататься на воде запрещено»  
 б) «Плывать на подручных средствах запрещено»  
 в) «При плавании на подручных средствах приближаться друг к другу запрещено»  
 г) «Буксируемые аттракционы на воде запрещены»



3. Чему приблизительно равно расстояние до грозового фронта, если после вспышки молнии до грома прошло 7 с?

2

а) 1780 м  
 б) 3330 м  
 в) 4230 м  
 г) 2380 м

4. Тайфун – местное название тропических ..., возникающих в районе Южно-Китайского моря, Филиппинских островов, в редких случаях доходящих до Приморского края Российской Федерации.

2

а) ураганов  
 б) циклонов  
 в) штормов  
 г) смерчей

5. Что нельзя делать ни в коем случае, если на улице к вам подошли люди и спрашивают, как найти улицу (дом)?

2

а) объяснять дорогу  
 б) провожать их  
 в) рисовать схему  
 г) вступать в разговор

5. **Международный термин «бедствие» может быть использован на взаимозаменяемой основе с национальным термином РФ**
- 2  а) «чрезвычайная ситуация»  
 б) «катастрофа»  
 в) «авария»  
 г) «стихийное бедствие»
6. **Скопление льдин в русле реки во время ледохода, вызывающее стеснение водного сечения и связанный с этим подъём уровня воды является**
- 2  а) зажором  
 б) шугой  
 в) курумом  
 г) затором
7. **Оказавшись в толпе, главной задачей является**
- 2  а) не потерять личные вещи  
 б) защитить грудную клетку  
 в) не упасть  
 г) защитить голову
8. **Какие неинфекционные заболевания находятся на первом месте по причине смертности в нашей стране и мире?**
- 2  а) онкологические заболевания  
 б) сахарный диабет  
 в) заболевания органов дыхания  
 г) сердечно-сосудистые заболевания
9. **У пострадавшего ожог на плече, площадь которого составляет примерно три его ладони. Какой процент от общей поверхности тела человека составляет ожог у данного пострадавшего?**
- 2  а) 1%  
 б) 3%  
 в) 9%  
 г) 18%
10. **Максимальное время повторного наложения жгута составляет**
- 2  а) 15 минут  
 б) 30 минут  
 в) 60 минут  
 г) 120 минут

**Определите два правильных ответа.**

За каждый правильный ответ начисляется 2 балла.

1. **Определите смысловое значение и область применения данного знака безопасности на объектах инфраструктуры ОАО «РЖД».**

- а) «Прыгать с платформы запрещено!»  
б) «Стоять у края платформы не допускается!»  
в) «Осторожно. Возможность падения с платформы»  
г) устанавливается на вокзале  
д) устанавливается на платформе



2. **Определите смысловое значение и область применения КРАСНОГО сигнального цвета в знаках безопасности.**

- а) требование обязательных действий в целях обеспечения безопасности  
б) непосредственная опасность  
в) предупреждение, предостережение о возможной опасности  
г) возможная опасность  
д) запрещение опасного поведения или действия

3. **Определите, какой костёр оптимально использовать только для ночёвки и узел, используемый для крепления к опоре.**

- а) баррел  
б) «пирамида»  
в) «встречный»  
г) «решётка»  
д) «австрийский проводник»

4. **Выберите характерные признаки приближающейся грозы.**

- а) резкое увеличение атмосферного давления и температуры воздуха  
б) ухудшение слышимости далёких звуков  
в) резкое увеличение порывов ветра  
г) появление изнурительной духоты  
д) резкое понижение атмосферного давления и температуры воздуха

5. **Что может являться источником природно-техногенной ЧС?**

- а) транспортная авария  
б) землетрясение  
в) катастрофа  
г) наводнение  
д) эпифитотия

4. **Что может являться источником биолого-социальной ЧС?**

- а) железнодорожная авария
- б) катастрофа
- в)  эпидемия
- г) цунами
- д)  пандемия

5. **Сообщения какой тематики принимает Главное управление уголовного розыска МВД России?**

- а) о распространении информации, наносящей вред здоровью и развитию детей
- б)  о незаконном обороте оружия
- в)  об интернет-мошенничестве
- г) о пропаганде социальной, расовой, национальной или религиозной розни
- д) о скулшутинге

6. **Выберите отдельные рода войск ВС РФ.**

- а)  РВСН
- б) ПВО
- в) ВМФ
- г) РХБЗ
- д)  ВДВ

7. **Для гражданина Российской Федерации защита Отечества является**

- а) правом
- б) предназначением
- в) обязательством
- г)  долгом
- д)  обязанностью

8. **Автомат Калашникова калибра 5,56 мм АК-19 был разработан на базе автомата ... калибра ... и является индивидуальным стрелковым оружием.**


- а)  5,45 мм
- б) 7,62 мм
- в)  АК-12
- г) АКМ
- д) АК-15

9. **Недостаток йода в организме человека может приводить к**

- а) «куриной слепоте»
- б) повышенной кровоточивости
- в)  нарушению синтеза тироксина
- г) нарушению синтеза инсулина
- д)  снижению интеллекта в раннем детском возрасте

10. При каких травмах и (или) состояниях пострадавшему придают оптимальное положение тела, изображённое на рисунке?

- а) травма позвоночника  
б) затруднение дыхания (одышка)  
в) травма таза  
г) большая кровопотеря (травматический шок)  
д) травма живота



### Теоретические задания

#### Задание 1

Расположите предложенные фрагменты в верной последовательности, чтобы в итоге получилось определение.

или без него, рабочий объём	→	1
превышает 50 куб. см или максимальная конструктивная	→	2
двигателя которого (в случае двигателя внутреннего сгорания)	→	3
скорость (при любом двигателе) превышает 50 км/ч	→	4
двухколёсное механическое транспортное средство с боковым прицепом	→	5

Запишите термин, определение которому Вы составили.

*Мототранспорт*

Укажите категорию и возраст, с которого предоставляется право управления транспортным средством, определение которому Вы составили. Категорию укажите заглавной латинской буквой, возраст – числом.

Категория – *A*






Возраст – *18*

*10 д*

### Задание 2

Сопоставьте изображения авиационной техники воздушно-космических сил Российской Федерации с их наименованиями.

- Ту-160
- Бе-200
- Ту-95МС
- Ту-22М3
- Су-30МК
- МиГ-35
- Як-130
- Су-57






	Ту-160
	Су-30МК
	Ту-95МС
	Су-57
	МиГ-35

106

### Задание 3

Сопоставьте изображения авиационной техники МЧС России с их наименованиями.

- 1 ○ Ан-148
- 2 ○ Бк-117
- 3 ○ Ми-26Т
- 4 ○ Бе-200ЧС
- 5 ○ SuperJet100-95LR

Изображения авиационной техники МЧС России	Наименования авиационной техники МЧС России
2 	SuperJet 100-95LR.
2 	Ан-148
2 	БК-117
2 	Ми 26Т
2 	Бе-200ЧС

100

### Задание 4

Для распространения инфекционных заболеваний обязательным условием является наличие трёх звеньев – источника инфекции, механизмов (путей) передачи инфекции и восприимчивого организма. Для того, чтобы предупредить распространение инфекции, проводятся противоэпидемические мероприятия, направленные на каждое звено эпидемического процесса.

Определите, на какое звено эпидемического процесса направлено каждое из перечисленных противоэпидемических мероприятий.

Противоэпидемические мероприятия	Звенья эпидемического процесса
Вакцинация	Источник инфекции
Применение бактерицидных ультрафиолетовых ламп	
Уборка помещений с применением дезинфицирующих средств	Механизм передачи инфекции
Выявление больных, их лечение и изоляция	
Применение иммуноглобулинов, иммунных сывороток	Восприимчивый организм

108

Максимальная оценка за работу – 100 баллов.