

ВСЕРОССИЙСКАЯ ОЛИМПИАДА ШКОЛЬНИКОВ  
ПО ОБЖ. 2022–2023 уч. г.  
ШКОЛЬНЫЙ ЭТАП. 7–8 КЛАССЫ

558


Тестовые задания

Определите один правильный ответ.

За правильный ответ начисляется 2 балла.

1. Определите смысловое значение изображённого дорожного знака.

- а) велосипедная дорожка  
2 б) приоритет велосипеда при движении  
в) полоса для велосипедистов  
г) пересечение с велосипедной дорожкой или велопешеходной дорожкой




2. Владелец имеет право оставлять свою собаку привязанной возле магазина на

- а) неограниченное время в наморднике  
2 б) неограниченное время, на коротком поводке  
в) ограниченное время, на длинном поводке, но в наморднике  
г) ограниченное время, на коротком поводке

3. Определите смысловое значение данного знака на водных объектах г. Москвы.

- 2 а) «В воде проводятся очистительные работы»  
б) «Стой! Опасное дно»  
в) «Входить в воду запрещено!»  
г) «Опасно! Грязная вода»



4. Молния опасна тогда, когда вслед за вспышкой следует

- 2 а) сильный порывистый ветер  
б) раскат грома  
в) ливневый дождь  
г) период затишья в течение не менее 10 секунд

5. Резкое кратковременное усиление ветра до 20–30 м/с и выше, сопровождающееся изменением его направления, связанное с конвективными процессами, – это

- 2 а) вихрь  
б) смерч  
в) циклон  
г) шквал

6. **Отрыв и падение больших масс горных пород на крутых и обрывистых склонах гор, речных долин и морских побережий, происходящих главным образом за счёт ослабления связности горных пород под влиянием процессов выветривания, деятельности поверхностных и подземных вод, является**

- 2
- а) оползнем
  - б) карстовой просадкой
  - в) обвалом
  - г) курумом

7. **Кому в первую очередь необходимо сообщить об обнаружении подозрительного предмета в вагоне метро?**


- 2
- а) сотруднику МЧС по телефону
  - б) дежурному на станции по переговорному устройству
  - в) сотруднику полиции по телефону
  - г) машинисту поезда по переговорному устройству

8. **Наибольшей энергетической ценностью обладают**

- 2
- а) белки
  - б) углеводы
  - в) жиры
  - г) минеральные вещества

9. **При какой травме и (или) состоянии пострадавшему придают оптимальное положение тела, изображённое на рисунке?**

- 2
- а) большая кровопотеря, пострадавший в сознании
  - б) большая кровопотеря, пострадавший без сознания
  - в) травма груди, пострадавший в сознании
  - г) травма головы, пострадавший без сознания



10. **При проведении искусственного дыхания выдох (вдох для пострадавшего) рекомендуется выполнять в течение**

- 2
- а) одной секунды
  - б) трёх секунд
  - в) пяти секунд
  - г) десяти секунд



**Определите два правильных ответа.**

За каждый правильный ответ начисляется 2 балла.

1. **Определите смысловое значение и область применения данного знака безопасности на объектах инфраструктуры ОАО «РЖД».**


а) устанавливается на территории платформ железнодорожных станций и вокзалов, у переходов и переездов через железнодорожные пути

б) «Берегись поезда!»

в) устанавливается в местах прохода граждан через железнодорожные пути

г) «Движение скоростных поездов»

д) «Переходить через железнодорожные пути опасно»



2. **Определите смысловое значение и группу данного знака безопасности.**

а) предупреждающий знак

б) «Ядовитые вещества»

в) предписывающий знак

г) «Запрещается брать руками»

д) «Опасно. Едкие и коррозионные вещества»



3. **Какие узлы рекомендуется использовать для закрепления веревок к опоре?**

а) булинь

б) грейпвайн

в) «двойной проводник»

г) прусик

д) «штык»

4. **Выберите параметры природной ЧС локального характера, территория которой не выходит за пределы территории объекта.**

а) количество людей, погибших и (или) получивших ущерб здоровью, составляет не более 50 человек

б) размер ущерба окружающей природной среде и материальных потерь составляет не более 240 тыс. рублей

в) размер материального ущерба составляет не более 12 млн рублей

г) количество людей, погибших и (или) получивших ущерб здоровью, составляет не более 10 человек

д) количество людей, погибших и (или) получивших ущерб здоровью, составляет свыше 50 человек, но не более 500 человек

5. **Какие из перечисленных служб входят в перечень экстренных оперативных служб, вызов которых круглосуточно и бесплатно обязан обеспечить оператор связи пользователю услугами связи?**

- а) служба реагирования в чрезвычайных ситуациях  
б) служба «ГосОтлов»  
в) служба «Антитеррор»  
г) служба экстренного реагирования на землетрясение  
д) служба вневедомственной охраны МВД РФ

6. **К опасным геологическим явлениям и процессам относят**

- а) переработку берегов  
б) просадку в лессовых грунтах  
в) сель  
г) торфяной пожар  
д) пыльную бурю

7. **Сообщения какой тематики принимает Главное управление по противодействию экстремизму МВД России?**

- а) о скулшутинге  
б) о распространении информации, наносящей вред здоровью и развитию детей  
в) об актах суицида  
г) об интернет-мошенничестве  
д) о пропаганде социальной, расовой, национальной или религиозной розни

8. **Выберите периоды максимальной работоспособности в течение суток.**

- а) 6:00–8:00  
б) 9:00–12:00  
в) 12:00–15:00  
г) 16:00–18:00  
д) 19:00–21:00

9. **При каких состояниях оказывается первая помощь?**

- а) отсутствие сознания  
б) повышение температуры тела до 39 °С  
в) повышение артериального давления  
г) отравление  
д) аллергическая реакция на коже в виде характерной сыпи (крапивница)

10. **Какие мероприятия по поддержанию проходимости дыхательных путей применяются при оказании первой помощи?**

- а) придание устойчивого бокового положения  
б) использование S-образного воздуховода  
в) интубация трахеи  
г) использование медицинской лицевой маски с обратным клапаном  
д) запрокидывание головы с подъемом подбородка



### Теоретические задания

#### Задание 1

Расположите предложенные фрагменты в верной последовательности, чтобы в итоге получилось определение.






для перевозки по		1
дорогам людей, грузов или		2
оборудования, установленного на нём		3
устройство, предназначенное		4

*Handwritten blue lines connect the fragments to the numbers: 'для перевозки по' to 2, 'дорогам людей, грузов или' to 1, 'оборудования, установленного на нём' to 3, and 'устройство, предназначенное' to 4.*

Запишите термин, определение которому Вы составили. *транспортное средство.*  
*28*

Укажите, какие сигналы рукой должен подать велосипедист для обозначения:

- поворот направо;
- торможение.

				
поворот направо		торможение		

*Handwritten blue lines connect the first two images to 'поворот направо' and the last three images to 'торможение'.*

*35*

### Задание 2

Сопоставьте изображения визуальных сигналов, передаваемых потерпевшими бедствие экипажам поисково-спасательных самолётов (вертолётов), с их значениями.

Изображения визуальных сигналов	Значения визуальных сигналов
F	«Операции закончены»
X	«Требуется медицинская помощь»
II	«Требуется карта и компас»
□	«Не понял»
↑	«Всё в порядке»
H	«Судно серьёзно повреждено»
L	«Требуется топливо и масло»
LL	«Двигаемся в этом направлении»
JL	«Нужны медикаменты»
LLL	«Нужны пища и вода»

68

### Задание 3

Каждому из перечисленных событий подберите соответствующую ему дату.

Наименование профессионального праздника (памятной даты)	Число и месяц, когда это событие празднуется
Всемирный день гражданской обороны	30 апреля
День участников ликвидации последствий радиационных аварий и катастроф и памяти жертв этих аварий и катастроф	27 декабря
День пожарной охраны России	26 апреля
День сотрудника органов внутренних дел Российской Федерации	10 ноября
День создания органов государственного пожарного надзора	1 марта
День Героев Отечества	4 октября
День спасателя Российской Федерации	18 июля
День памяти о россиянах, исполнявших служебный долг за пределами Отечества	15 февраля
День государственной горноспасательной службы	6 июля
День гражданской обороны России	9 декабря

45



#### Задание 4

Вы увидели, как турист упал с обрыва и ударился животом о камень. Удар пришёлся в левое подреберье. Пострадавший жалуется на боли в животе, слабость, головокружение. При осмотре отмечается бледность кожных покровов, частый слабый пульс.

Расставьте мероприятия первой помощи в очерёдности их выполнения.

+	3	Выполнить подробный осмотр пострадавшего (выявить болезненность в области живота).
	1	Провести обзорный осмотр пострадавшего на наличие наружного кровотечения (убедиться в его отсутствии).
	2	Оценить обстановку, убедиться в безопасности оказания первой помощи.
+	5	Оказать пострадавшему психологическую помощь (разговаривать с пострадавшим до приезда скорой медицинской помощи (СМП)), передать пострадавшего бригаде СМП.
+	4	Придать пострадавшему оптимальное положение тела, приложить холод к животу (по возможности), вызвать скорую медицинскую помощь.

Максимальная оценка за работу – 100 баллов.

60