

ВСЕРОССИЙСКАЯ ОЛИМПИАДА ШКОЛЬНИКОВ
ПО ОБЖ. 2022–2023 уч. г.
ШКОЛЬНЫЙ ЭТАП. 9 КЛАСС

905


Тестовые задания

Определите один правильный ответ.

За правильный ответ начисляется 2 балла.

1. О чём предупреждает изображённый дорожный знак?

- а) о неровной дороге
б) об опасном повороте
в) об обрывистой обочине
г) о крутом подъёме



2. Как нужно держать собаку при входе и выходе из кабины лифта?

- а) за люверс
б) за ошейник
в) за антабку
г) за поводок

3. Определите смысловое значение данного знака на водных объектах г. Москвы.

- а) «Входить в воду запрещено»
б) «Опасно! Слив горячей воды»
в) «Стой! Опасное дно»
г) «Опасно! Грязная вода»



4. ЧС, в результате которой зона ЧС затрагивает территорию двух и более субъектов РФ, при этом количество людей, погибших и (или) получивших ущерб здоровью, составляет свыше 50 человек, но не более 500 человек, либо размер материального ущерба составляет свыше 12 млн рублей, но не более 1,2 млрд рублей, носит

- а) региональный характер
б) межмуниципальный характер
в) муниципальный характер
г) межрегиональный характер

6. **Какое воинское звание имеет действующий министр обороны РФ?**

- а) генерал-лейтенант
2 б) генерал армии
в) Маршал РФ
г) генерал-полковник

7. **С какого возраста граждане мужского пола получают подготовку по военно-учётным специальностям солдат, матросов, сержантов и старшин в общественных объединениях, общественно-государственных организациях и профессиональных образовательных организациях?**

- 2 а) с 15 лет
б) с 18 лет
в) с 16 лет
г) с 17 лет

8. **На изображении представлен**

- 2 а) ПМ
б) ПММ
в) ПСМ
г) ПЛК



9. **Выберите метод специфической профилактики инфекционных заболеваний.**

- 2 а) закаливание
б) приём витаминов
в) применение профилактических прививок
г) занятия физической культурой

10. **До какого возраста пострадавшего запрещено выполнять надавливание на живот (приём Геймлиха) при попадании инородного тела в верхние дыхательные пути?**

- 2 а) до 1 года
б) до 3 лет
в) до 7 лет
г) до 14 лет

Определите два правильных ответа.

За каждый правильный ответ начисляется 2 балла.

1. **Определите смысловое значение и область применения данного знака безопасности на объектах инфраструктуры ОАО «РЖД».**

- а) «Доступ посторонним запрещён!»
б) «Стой, опасно для жизни!»
в) «Проход запрещён!»
г) устанавливается в непосредственной близости от мест возможных действий
д) устанавливается на платформе



2. **Определите смысловое значение и область применения СИНЕГО сигнального цвета в знаках безопасности.**

- а) указание
б) разрешение определённых действий
в) помощь, спасение
г) сообщение о нормальной работе оборудования, нормальном состоянии технологического процесса
д) предупреждение, предостережение о возможной опасности

3. **Выберите параметры техногенной чрезвычайной ситуации регионального характера.**

- а) зона чрезвычайной ситуации затрагивает территорию двух и более муниципальных районов, муниципальных округов, городских округов, расположенных на территории одного субъекта Российской Федерации
б) количество людей, погибших и (или) получивших ущерб здоровью, составляет свыше 500 человек либо размер материального ущерба составляет свыше 1,2 млрд рублей
в) количество людей, погибших и (или) получивших ущерб здоровью, составляет свыше 50 человек, но не более 500 человек, либо размер материального ущерба составляет свыше 12 млн рублей, но не более 1,2 млрд рублей
г) количество людей, погибших и (или) получивших ущерб здоровью, составляет не более 50 человек, либо размер материального ущерба составляет не более 12 млн рублей
д) зона чрезвычайной ситуации не выходит за пределы территории одного субъекта Российской Федерации

6. К опасным метеорологическим явлениям и процессам относят
- а) шторм
 - б) сель
 - в) штормовой нагон
 - г) циклон
 - д) цунами
7. Сообщения какой тематики принимает управление «К» МВД России?
- а) о скулшутинге
 - б) о распространении информации, наносящей вред здоровью и развитию детей
 - в) об актах суицида
 - г) об интернет-мошенничестве
 - д) о пропаганде социальной, расовой, национальной или религиозной розни
8. Какие заболевания относят к трансмиссивным?
- а) гепатит А
 - б) малярия
 - в) грипп
 - г) краснуха
 - д) чума
9. Прохожий поскользнулся во время гололёда и упал с упором на вытянутую руку. В нижней трети предплечья появилась резкая боль, отёк. Какие суставы необходимо зафиксировать, чтобы выполнить надёжную иммобилизацию пострадавшей конечности?
- а) плечевой сустав неповреждённой руки
 - б) плечевой сустав повреждённой руки
 - в) локтевой сустав повреждённой руки
 - г) лучезапястный сустав повреждённой руки
 - д) межфаланговые суставы повреждённой руки
10. На какие анатомические части верхней конечности рекомендуется накладывать кровоостанавливающий жгут?
- а) на верхнюю треть плеча
 - б) на среднюю треть плеча
 - в) на нижнюю треть плеча
 - г) на среднюю треть предплечья
 - д) на нижнюю треть предплечья

Теоретические задания

Задание 1

Расположите предложенные фрагменты в верной последовательности, чтобы в итоге получилось определение.

| | | |
|---|--|---|
| конструктивная скорость которого не превышает 50 км/ч, имеющее | | 1 |
| в режиме длительной нагрузки более 0,25 кВт и менее 4 кВт | | 2 |
| двух- или трёхколёсное механическое транспортное средство, максимальная | | 3 |
| или электродвигатель номинальной максимальной мощностью | | 4 |
| двигатель внутреннего сгорания с рабочим объёмом, не превышающим 50 куб. см | | 5 |

Запишите термин, определение которому Вы составили.

48

Укажите категорию и возраст, с которого предоставляется право управления транспортным средством, определению которому Вы составили. Категорию укажите заглавной латинской буквой, возраст – числом.











Категория – 16

Возраст – 18

08.

Задание 2

Сопоставьте изображения визуальных сигналов, передаваемых потерпевшими бедствие экипажам поисково-спасательных самолётов (вертолётов), с их значениями.

| Изображения визуальных сигналов | Значения визуальных сигналов |
|---|---|
|  | «Произошло лётное происшествие, имеются пострадавшие» |
|  | «Разделились на две группы, каждая следует в указанном направлении» |
|  | «Мы нашли всех людей» |
|  | «Отрицательно» |
|  | «Требуется медицинская помощь» |
|  | «Требуются карта и компас» |
|  | «Мы не в состоянии продолжать поиск, возвращаемся на базу» |
|  | «Здесь садиться нельзя» |
|  | «Нужны оружие и боеприпасы» |
|  | «Сбросьте сообщение» |

10 d


Задание 3

Определите эмблемы и даты профессиональных праздников, соответствующие видам и родам войск.

Даты профессиональных праздников:

- последнее воскресенье июля
- 1 августа
- 1 октября
- 17 декабря
- 2 августа
- 2 февраля
- 27 января
- 1 марта
- 3 сентября

Эмблемы:



| Виды/ рода войск | Даты профессиональных праздников | Эмблемы |
|--|----------------------------------|---------|
| Сухопутные войска | 1 октября | → |
| Воздушно-космические силы | 1 августа | → |
| Военно-морской флот | последнее воскресенье июля | → |
| Ракетные войска стратегического назначения | 17 декабря | → |
| Воздушно-десантные войска | 2 августа | → |

108

Задание 4

Установите соответствие между типом повязки и её характеристикой (описанием).

| Тип повязки | Характеристика повязки |
|-------------|---|
| Ползучая | Накладывается в области локтевого или коленного суставов. Существует в двух вариантах: расходящаяся (повязка начинается в области сустава и чередуется турами бинта, которые накладываются выше и ниже сустава) и сходящаяся (повязка начинается с наложения двух круговых туров выше и ниже сустава, далее осуществляется бинтование по сходящемуся типу). |
| Циркулярная | Применяется в двух вариантах. Первый – без перегибов накладывается на цилиндрические части тела (плечо, бедро), второй – с перегибами накладывается на конусообразные части тела (голень, предплечье). Каждый последующий тур бинта перекрывает предыдущий на половину или две трети его ширины |
| Черепашья | Применяется для фиксации большого по протяжённости перевязочного материала на верхних или нижних конечностях. Между отдельными турами остаётся свободное пространство, равное примерно ширине бинта |
| Працевидная | Представляет собой разрезанную с двух сторон полосу марли (бинта) или любой мягкой материи |
| Спиральная | Является началом любой мягкой бинтовой повязки и может быть самостоятельной при бинтовании в области лучезапястного сустава, плеча, головы на небольших по протяжённости участках повреждения |

105

Максимальная оценка за работу – 100 баллов.