



Чтоб не складывать подолгу  
Числа одинаковые,  
С умножением познакомьтесь,  
Пользуйтесь новыми знаками!



Умножение

# Сколько игрушек?





# Составь выражение

4	+	4	+	4	+	4	=	16
---	---	---	---	---	---	---	---	----

**Воспользуйся правилом:  
Сложение одинаковых слагаемых  
называется умножением.**

4	*	4	=	16
---	---	---	---	----

# Запиши умножением



ПРОВЕРИТЬ

# Проверь себя

$$4+4+4= 12$$

$$4*3= 12$$

$$5+5+5+5= 20$$

$$5*4= 20$$

$$3+3+3+3= 12$$


$$3*4= 12$$

$$2+2+2= 6$$


$$2*3= 6$$




# Приземлись на свое место

$5+5+5$  


$\bullet 6*4$

$4+4+4+4+4$  


$\bullet 4*5$

$6+6+6+6$  


$\bullet 5*3$

$7+7$  

$\bullet 3*6$

$3+3+3+3+3+3$  

$\bullet 7*2$

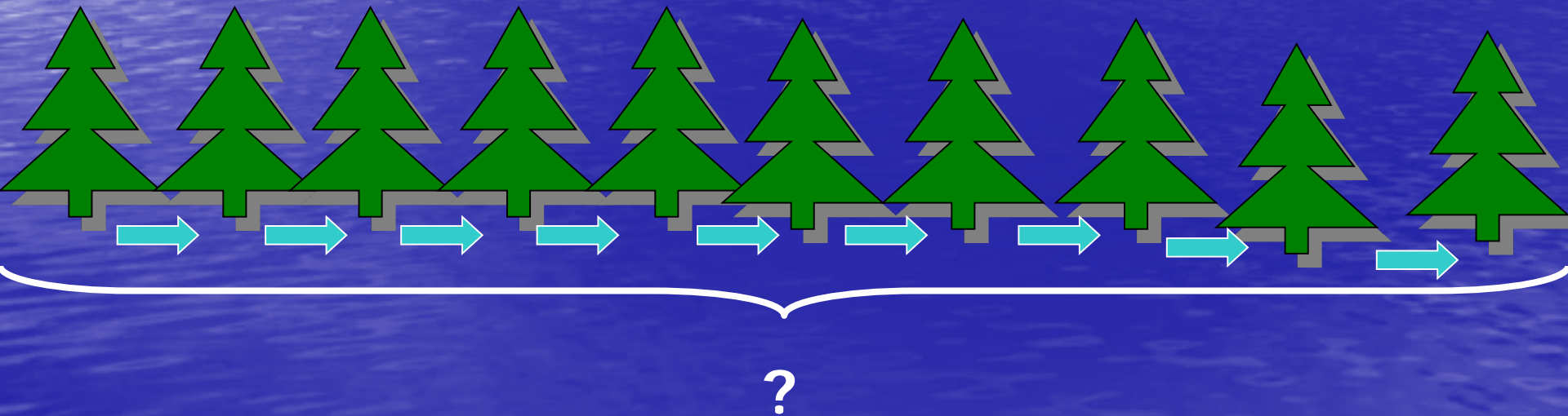


Молодец!



# Реши задачу

Вдоль дороги посадили 10 елей.  
Расстояние между соседними елями  
10м. *Какое расстояние между крайними  
елями?*



# Решение

$$10+10+10+10+10+10+10+10+10$$
$$=90$$

$$10*9=90$$





### По вертикали:

1. Результат сложения.
2. Сложить 4 раза по 10
3. Каждое число при сложении.
4. По 3 сложить 3 раза

### По горизонтали:

1. Сложение одинаковых слагаемых.



# ИГРА

«Умножение-сложение  
одинаковых чисел»

Выбери правильный ответ:

$20 * 5 = 100$

$20 * 4 = 60$

$20 * 1 = 21$

В каком выражении сложение  
нельзя заменить умножением?

$15+15+15+15$

$23+20+23+20+23$

$4+4+4+4+4+4$





УМНИЦА!

Спасибо за урок