



Сумма и произведение.

Знак « ● »

Математика

2 класс

УМК «Перспективная начальная школа»

Учитель начальных классов

Пономарева Оксана Сергеевна

МАОУ «Ульяновская СОШ»



2017г

Разгадайте правило, по которому составлены
схемы, и вставьте пропущенные числа:

$$48 + 30$$

$$79 - \dots 1$$

$$72 + 6 \dots$$

78

$$18 + \dots 60$$


$$\dots 58 + 20$$

$$89 - \dots 11$$

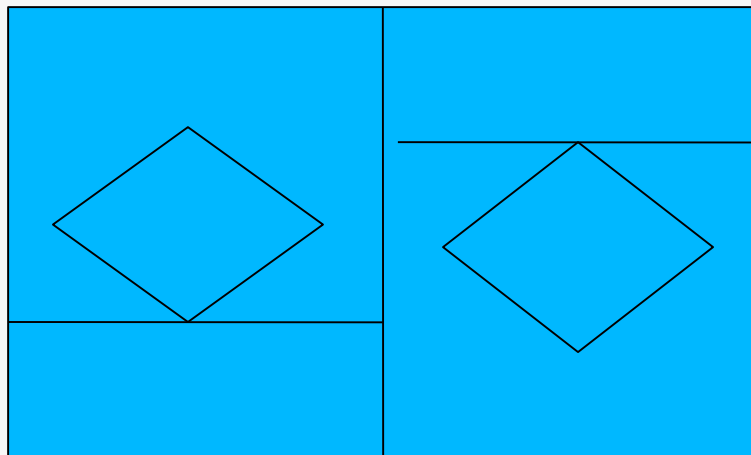


Задача

Мама Енотиха сварила раков и
разделила их поровну – Крошке Еноту и
себе. «Мне столько не съесть», - сказал
Крошка Енот и отдал 7 раков маме. На
сколько меньше раков стало у Крошки
Енота, чем у мамы ?



**Сколько на чертеже квадратов ,
прямоугольников и четырёхугольников?**




Как называется каждое выражение?


$$9 + 5$$

$$9 - 5$$

$$9 \cdot 5$$



произведение



 [Увеличить](#)



 [Увеличить](#)



 [Увеличить](#)

$$2 + 2 + 2$$

$$2 \cdot 3$$



